

Многопрофильная олимпиада «Твой выбор»

Изобразительное искусство

Задание 1


1 На какой из фотографий представлен дорический ордер? Отметьте все изображения.



A (...)



B (...)



C (...)



D (...)

2. Что изображают на картинах анималистического жанра?

а) животных;

б) природу;

в) сценки из повседневной жизни.

3. Что включает в себя вид театрально-декорационного искусства?

Ответ: _____

4. Как называется вид художественных произведений, характеризующихся определенными темами?

Ответ _____

5. Действие, которое может быть на картине, выполненной в батальном жанре

Ответ _____

Общее количество баллов за ответ

Задание 2

1. Заполните пропуски в тексте, запишите ответы через запятую:

Венский Сецессион – одно из явлений художественного стиля ____, распространившегося в Европе в конце XIX – начале XX веков. Лозунг художников, вошедших в объединение, гласил: «Каждому времени своё искусство, каждому искусству своя свобода». Предводителем Сецессиона в Вене был выдающийся художник ____, чья картина «Поцелуй» является одним из наиболее известных произведений живописи этого периода.

Пример заполнения: импрессионизм, Клод Моне

Ответ: _____

2. Многие современные искусствоведческие термины ведут свое происхождение из иностранных языков. Найдите из предложенных переводов значение слова «импрессионизм». Подчеркните верный ответ.

- a. «удаление, отвлечение»
- b. «популярное искусство»
- c. «впечатление»
- d. «современный»
- e. «выражение»

3. Памятники древнеегипетского искусства. Зачеркните неправильные ответы:

- a) храм Амона-Ра в Карнаке
- b) пирамиды в Гизе
- c) пирамида в Паленке «Храм надписей»
- d) Колизей

4. Монументальные виды искусства. Зачеркните неправильные ответы:

- a) фреска
- b) икона
- c) мозаика
- d) витраж
- e) эстамп

5. Какие из представленных работ являются автопортретами? Выберите все правильные ответы




A)




Б)



В).....Г)



Д).....Е)



Ж).....З)

6. Соответствие между средством художественной выразительности и видом искусства. Соедините стрелками пары:

1. музыка	а) монтаж
2. живопись	б) линии и штрих
3. графика	с) тектоника
4. кино	д) темп
5. архитектура	е) цвет

8. Верхняя часть колонны, на которую опирается балка перекрытия. Подчеркните правильный вариант:

- а) база
- б) капитель
- с) карниз

9. Напишите правильно искусствоведческие термины. Впишите буквы вместо пропусков.

1.

	Л	Е			Р
--	---	---	--	--	---

термин, обозначающий передачу в картине всего богатства изменений цвета, обусловленных воздействием солнечного света и окружающей атмосферы; Натуральная природная обстановка вне помещения, в которой работает живописец.

2.

П		Т	Р	О	Г	Л		Ф
---	--	---	---	---	---	---	--	---

изображение, высеченное, выбитое или процарапанное на камне.

3.

П	Е					К		И	В	А
---	---	--	--	--	--	---	--	---	---	---

техника изображения пространственных объектов на какой-либо поверхности в соответствии с теми кажущимися сокращениями их размеров, изменениями очертаний формы и светотеневых отношений...

4.

Р		Н				С	А	Н	С
---	--	---	--	--	--	---	---	---	---

эпоха возрождения античной культуры.

5.

Т		М	П			А
---	--	---	---	--	--	---

древняя техника живописи, в которой для создания художественных образов используются водорастворимые краски на основе сухих порошковых пигментов и натуральных или искусственных эмульсий.

Общее количество баллов за ответ

Задание 3

1. Напишите имена богатырей В. Васнецова.

2. По мотивам какой сказки В. Васнецов написал картину «Аленушка»?

3. Выберите художников, писавших картины по мотивам русских сказок. Подчеркните правильные варианты:

- a) *И. Я. Билибин*
- b) *И. Айвазовский*
- c) *В. М. Васнецов*
- d) *И. Левитан*
- e) *М. А. Врубель*

4. Напишите, кто стал прообразом Снегурочки В.М. Васнецова

5. Укажите верное название картин и их авторов







Общее количество баллов за ответ

Задание 4

1. Заполните таблицу, соотнесите название произведения искусства с именем автора, а также определите вид искусства. Заполните пустые графы таблицы самостоятельно.

1. Рембрандт ван Рейн
2. «Поцелуй Иуды»
3. Людвиг ван Бетховен
4. «Голубые танцовщицы»
5. Сергей Бондарчук
6. «Аппассионата»
7. Филиппо Брунеллески
8. «Спартак»
9. Арам Хачатурян
10. «Собор Парижской Богоматери»
11. Эдгар Дега
12. «Дорифор»
13. Виктор Гюго
14. «Возвращение блудного сына»
15. Поликлет
16. «Война и мир»
17. Джотто
18. «Афина Паллада»
19. Густав Климт
20. «Купол собора Санта-Мария-дэль-Фьоре»

№	Автор произведения	Название произведения	Вид искусства
1.			
2.			
3.			
4.			
5.			
6.			
7.			
8.			
9.			
10.			

2. Подчеркните имя художника, в честь которого названа Курская государственная картинная галерея:

Е. Шварц, К. Истомина, А. Дейнека?

3. Подчеркните имя автора памятника А. Невского в городе Курске:


Н. Криволапов, В. Клыков, В. Бартенев?

4. Напишите фамилии художников, которые работали под псевдонимом Кукрыниксы?

5. Конная статуя – одна из наиболее популярных разновидностей скульптуры. Из представленных вариантов Вам необходимо выбрать памятники, созданные в эпоху Возрождения.



А).....



Б).....



В).....



Г).....



Д).....



Е).....

Общее количество баллов за ответ



Задание 5

1. Прочитайте текст о готическом стиле. Вставьте номера иллюстраций к заданию после предложений, к которым их можно отнести. В отведенных местах вставляйте по одному номеру.

Готика – в основном архитектурный стиль, но и в дизайне интерьера №__ ему свойственны очень существенные отличия от других стилей №__, свое собственное и ни с чем не сравнимое “лицо”: огромные окна-розы №__, многоцветные витражи №__, световые эффекты.

Гигантские ажурные башни-колокольни №__ и башенки-пинакли №__, подчеркнутая вертикальность всех конструктивных элементов.


Каркасная система готической архитектуры №__ - совокупность конструктивных строительных приёмов, появившаяся в готике, которая позволила изменить нагрузки в здании и заметно облегчить его стены и перекрытия. Основными элементами конструкции являются контрфорсы №__, аркбутаны №__ и нервюры №__. Главной и в первую очередь бросающейся в глаза чертой готических соборов является их ажурная структура, представляющая собой резкий контраст массивным конструкциям предшествующей романской архитектуры №__. (<https://studfiles.net/preview/3848488/page:5>)



4.

5.

6.



2 Какому государственному деятелю посвящён приведённый ниже фрагмент? Какое распространённое название получил памятник этому правителю после публикации поэмы? Напишите ответ через запятую. Пример: Александр III, Дружба народов.

*На берегу пустынных волн
 Стоял он, дум великих полн,
 И вдаль глядел. Пред ним широко
 Река неслася; бедный чёлн
 По ней стремился одиноко.
 По миштым, топким берегам
 Чернели избы здесь и там,
 Приют убогого чухонца;
 И лес, неведомый лучам
 В тумане спрятанного солнца,
 Кругом шумел.*

*И думал он:
 Отсель грозить мы будем шведу,
 Здесь будет город заложен
 На зло надменному соседу.....*

Общее количество баллов за ответ

Задание 6

1. Батальный жанр в живописи, как следует из названия, всегда посвящён военным событиям. Выберите из представленного списка работы отечественных художников-баталистов.



А).....



Б).....



B).....



Γ).....



Д).....



Е).....

2. Кисти какого художника принадлежит картина под названием «Герника»? В каком году она написана? Где в данный момент хранится эта картина? (фрагмент-подсказка) _____



3. Именно ему А.С.Пушкина посвятил строки: «Себя, как в зеркале, я вижу, но это зеркало мне льстит...».



(фрагмент-подсказка) _____

4. Кем и в каком году было написано знаменитое полотно «Башмаки»? Где в данный момент хранится эта картина?



5. Что послужило вдохновением для создания картины «Последний день Помпеи» К.Брюллова? _____

Общее количество баллов за ответ

Задание 7



1



2



3



4



5



6

1. Напишите, какая тема объединяет все эти изображения:

2. Укажите название и авторов произведений живописи.

1
2
3
4
5
6
7

Напишите в таблице названия трех известных Вам произведений **других** видов искусства, разрабатывающих тему семьи. Напишите название вида искусства каждого из приведенных Вами произведений. Если возможно, напишите имя автора произведения и время его создания (век с указанием половины или трети).

	Название	Вид искусства	Автор	Время создания
1				
2				
3				

Общее количество баллов за ответ

Задание 8

Архитектурные памятники Московского Кремля




1



2



3



4



5



6



7



8



9

Таблица к заданию Архитектурные памятники Московского Кремля

1. Напишите в таблице названия архитектурных объектов, представленных на картинках.
2. Укажите время их возведения и авторов-архитекторов (там, где это возможно)
3. Какой из архитектурных объектов раньше служил мерилom высоты построек в Москве? № _____

№	Название объекта	Архитекторы, имеющие отношение к его возведению
1		

2		
3		
4		
5		
6		
7		
8		
9		

Общее количество баллов за ответ

Скрепите листы с ответами с титульным листом и сдайте работу.